



KOD UCZNIĄ

.....

Konkurs Geograficzny
dla uczniów szkół podstawowych województwa zachodniopomorskiego
w roku szkolnym 2019/2020

Etap szkolny

Drogi Uczniu!

Prosimy, abyś przed przystąpieniem do rozwiązywania zadań zapoznał się z poniższymi informacjami i wskazówkami.

1. Przed Tobą **25 zadań** do rozwiązania – liczba punktów możliwych do uzyskania podana jest w nawiasie, przy numerze zadania.
2. Liczba punktów do zdobycia za cały test – **40**.
3. Dziesięć zadań to zadania zamknięte zawierające cztery odpowiedzi, z których tylko jedna jest poprawna. Znajdź ją i zaznacz.
4. W przypadku pomyłki błędną odpowiedź obwiedź kółkiem i zaznacz nową, poprawną. Jeżeli zaznaczysz więcej niż jedną odpowiedź bez wskazania, która jest prawidłowa, żadna nie zostanie uznana.
5. W przypadku pozostałych zadań działaj zgodnie z poleceniami. Czytaj je bardzo uważnie.
6. Zapisuj wszystkie istotne etapy rozwiązania każdego zadania wymagającego obliczeń.
7. Pisz tylko długopisem lub piórem, nie używaj ołówka, gumki ani korektora.
8. W czasie rozwiązywania zadań możesz używać linijki i prostego kalkulatora.
9. Po zakończeniu pracy sprawdź, czy udzieliłeś wszystkich odpowiedzi.
10. Czas rozwiązywania zadań: **60 minut**.

Powodzenia!

Zadanie 1. (0-1 pkt)

Mapy topograficzne przedstawiają:

- A. duże obszary, głównie państwa i kontynenty.
- B. nieduże fragmenty terenu.
- C. głównie obszary górskie.
- D. budowę geologiczną na danym terenie.

Zadanie 2. (0-2 pkt.)


Uporządkuj skale od największej do najmniejszej.

A. 1 : 20 000

B. 1cm - 2 km

C. 1 : 2 000 000

D. 1 cm - 20 m



skala największa

skala najmniejsza

Zadanie 3. (0-2 pkt.)

Podpisz kontynent na podstawie konturów. Kontury nie są proporcjonalne wielkościowo.

A.



B.



C.



D.

Zadanie 4. (0-2 pkt.)

Oblicz długość trasy, którą przeszedł turysta, wiedząc, że na mapie w skali 1 : 50 000 wynosi ona 260 mm. Zapisz obliczenia.

.....

.....

.....

.....

.....

Zadanie 5. (0-1 pkt)

Fotografia ilustruje jeden z obiektów zabytkowych Polski, który został wpisany na listę Światowego Dziedzictwa Kulturowego i Przyrodniczego Ludzkości UNESCO.



[https://www.google.pl/url?sa=i&rct=j&q=&esrc=s&source=images&cd=&cad=rja&uact=8&ved=0ahUKEwix4oXmwfRAhVBQZoKHZG_ABQQjRwIBw&url=http%3A%2F%2Fpodroze.onet.pl%2Fna-weekend%](https://www.google.pl/url?sa=i&rct=j&q=&esrc=s&source=images&cd=&cad=rja&uact=8&ved=0ahUKEwix4oXmwfRAhVBQZoKHZG_ABQQjRwIBw&url=http%3A%2F%2Fpodroze.onet.pl%2Fna-weekend%2Fmalbork)

Zdjęcie przedstawia:

- A. Stare Miasto w Warszawie.
- B. Średniowieczny Zespół Miejski Torunia.
- C. Zamek Krzyżacki w Malborku.
- D. Stare Miasto w Krakowie.

Zadanie 6. (0-2 pkt.)

W roku 1956, w dolinie Prądnika utworzono park narodowy.

A. Podaj jego nazwę

B. Podkreśl trzy elementy środowiska naturalnego będące największą atrakcją tego parku.

Jaskinia Raj, przełom Dunajca, Jaskinia Łokietka, gołoborza, brzoza ojcowska, limba, jeziora cyrkowe, Brama Twardowskiego.

Zadanie 7. (0-2 pkt.)

Uzupełnij tabelę według wzoru wpisanym w drugim wierszu. Informacje dobierz z poniższych.

Klimat: ~~umiarkowany ciepły morski, subpolarny~~, równikowy wybitnie wilgotny, umiarkowany ciepły kontynentalny.

Formacja roślinna: ~~lasy liściaste i mieszane, stepy~~, tundra, wilgotne lasy wiecznie zielone.

Gleby: brunatne, ~~czerwonożółte~~, czarnoziemy, tundrowe.

KLIMAT	FORMACJA ROŚLINNA	GLEBY
umiarkowany ciepły morski	lasz liściaste i mieszane	brunatne
subpolarny		
	stepy	
		czerwonożółte

Zadanie 8. (0-1 pkt)

Najkrótszy dzień trwa tu około 10,5 godziny, a Słońce dwukrotnie w ciągu roku góruje tu w zenicie.

Jakiej strefy oświetlenia Ziemi dotyczy powyższy opis?

- A. Strefy międzyzwrotnikowej.
- B. Strefy podzwrotnikowej.
- C. Strefy umiarkowanej.
- D. Strefy polarnej.

Zadanie 9. (0-2pkt.)

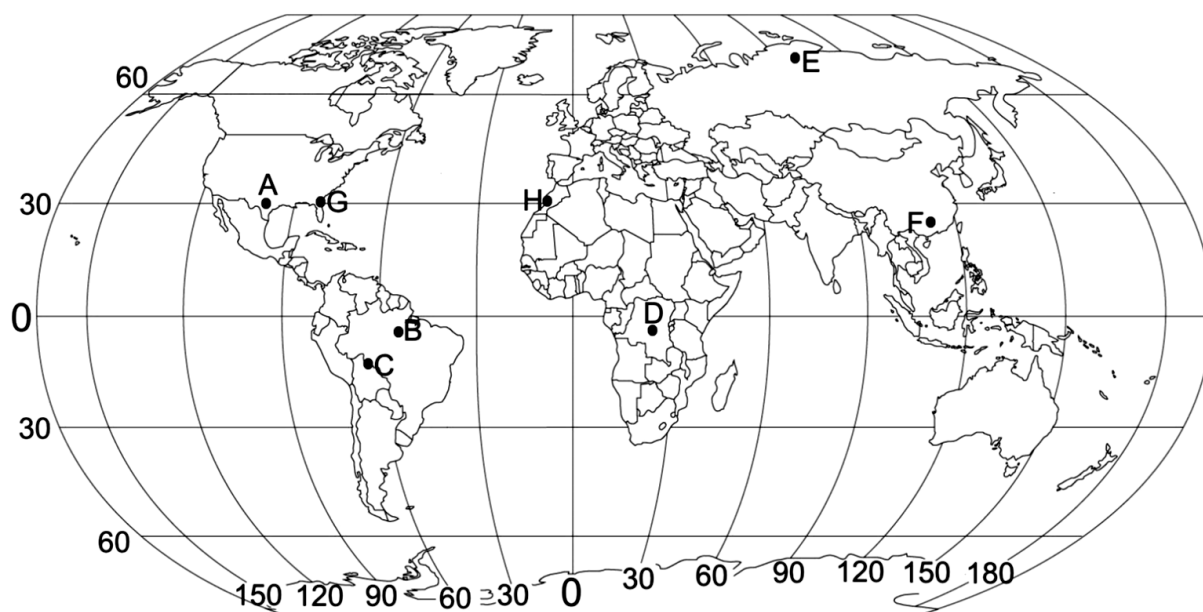
Oceń prawdziwość podanych poniżej zdań. Zaznacz P, jeżeli zdanie jest prawdziwe, lub F, jeżeli zdanie jest fałszywe.

Zmiany miejsc wschodu i zachodu Słońca są konsekwencją ruchu obrotowego Ziemi.	P	F
Zmiana długości trwania dnia i nocy w ciągu roku jest spowodowana ruchem obiegowym Ziemi wokół Słońca.	P	F
Spłaszczenie Ziemi na biegunach jest efektem ruchu obiegowego wokół Słońca.	P	F
Ruch wirowy Ziemi i ruch obrotowy Ziemi to jest ten sam ruch Ziemi.	P	F

Zadanie 10. (0-2 pkt.)

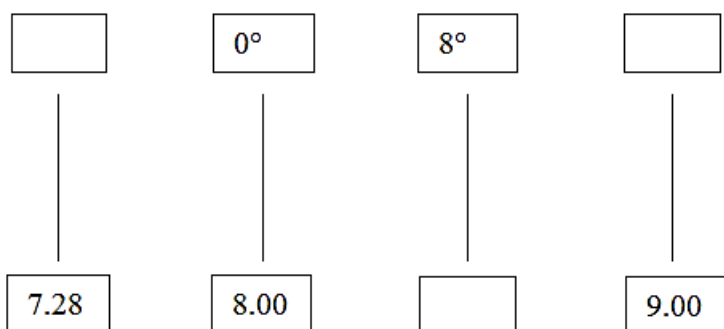
Analizując mapę, na której zaznaczono kropkami kilka punktów na powierzchni Ziemi, oceń prawdziwość podanych poniżej zdań. Zaznacz P, jeżeli zdanie jest prawdziwe, lub F, jeżeli zdanie jest fałszywe.

Punkt A leży na 30° długości geograficznej.	P	F
Punkt B znajduje się na północny-wschód od punktu C.	P	F
Punkty D, E, F leżą na tych samych półkulach.	P	F
Punkty G, H mają taką samą szerokość geograficzną.	P	F



Zadanie 11. (0-2 pkt.)

Uzupełnij schemat wpisując poprawne wartości długości geograficznej i czasu słonecznego

**Zadanie 12.** (0-2 pkt.)

Wskaż zestaw odpowiedzi, który będzie poprawnym uzupełnieniem zadania. Zaznacz literę (A lub B) oraz jeden z numerów (1 lub 2).

Do Polski napływają głównie masy powietrza

A.	zwrotnikowego,	<i>które przynoszą zimą silne zachmurzenia,</i>	1.	ocieplenie.
B.	polarno morskiego,	<i>opady deszczu ze śniegiem, mgły oraz</i>	2.	ochłodzenie.

Zadanie 13. (0-1 pkt)

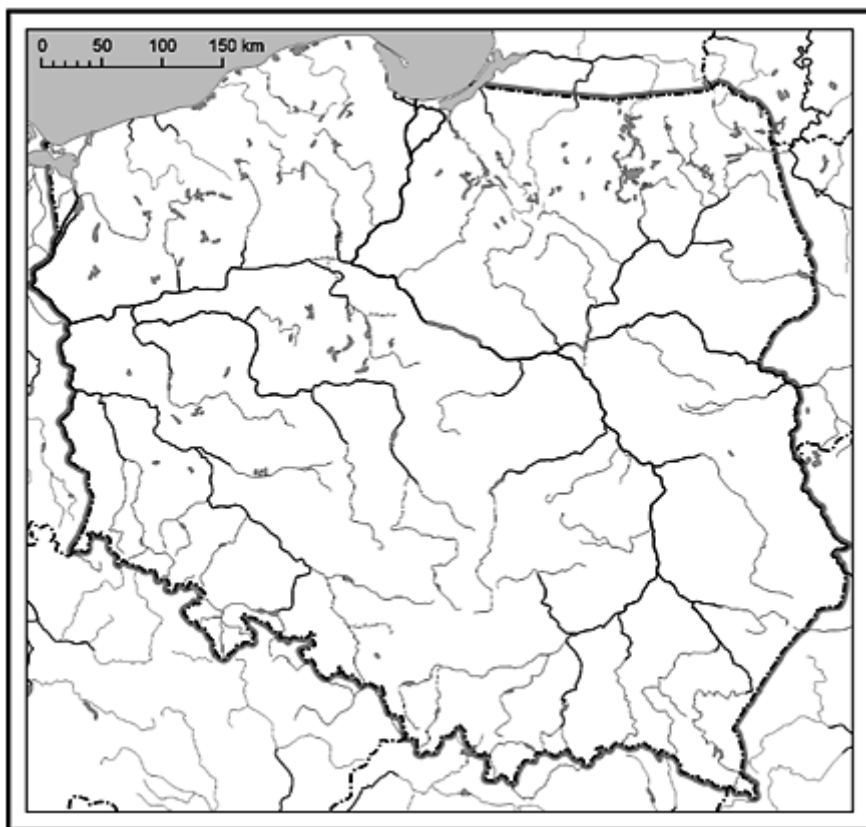
Profil przedstawia rodzaj gleby występującej w Polsce.



Wpisz nazwę krainy na obszarze, której ta gleba występuje w znacznej ilości.

- A. Wyżyna Krakowsko-Częstochowska
- B. Pojezierze Pomorskie.
- C. Żuławy Wiślane.
- D. Nizina Wielkopolska.

Zadanie 14. (0-2 pkt.)



Podkreśl nazwy rzek, które należą do dorzecza Odry.

Wda, Ina, Bzura, Pilica, Warta, Barycz, Wieprz, Kaczawa.

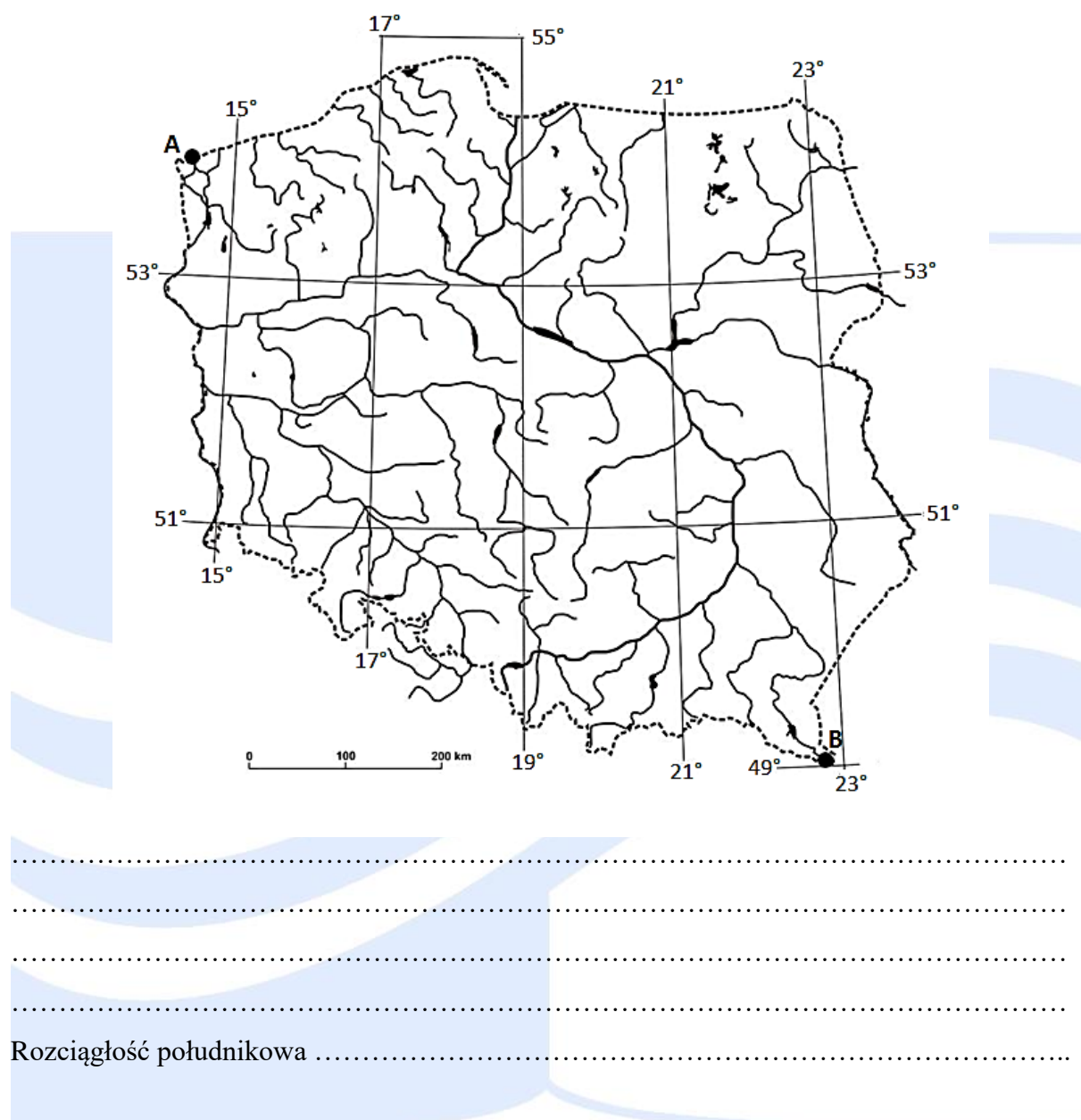
Zadanie 15. (0-1 pkt.)

Zaznacz dane, które obrazują strukturę zatrudnienia w Polsce w roku 2018 wiedząc, że średnio w Unii Europejskiej w rolnictwie pracuje 5% zatrudnionych, w przemyśle 22%, w usługach 73%.

	ROLNICTWO	PRZEMYSŁ	USŁUGI
A.	4	25	71
B.	8	10	82
C.	20	30	50
D.	14	26	58

Zadanie 16. (0-2 pkt.)

Oblicz rozciągłość południkową między Świnoujściem (punkt A) i Przełęczą Użocką (punkt B).



Zadanie 17. (0-1 pkt.)

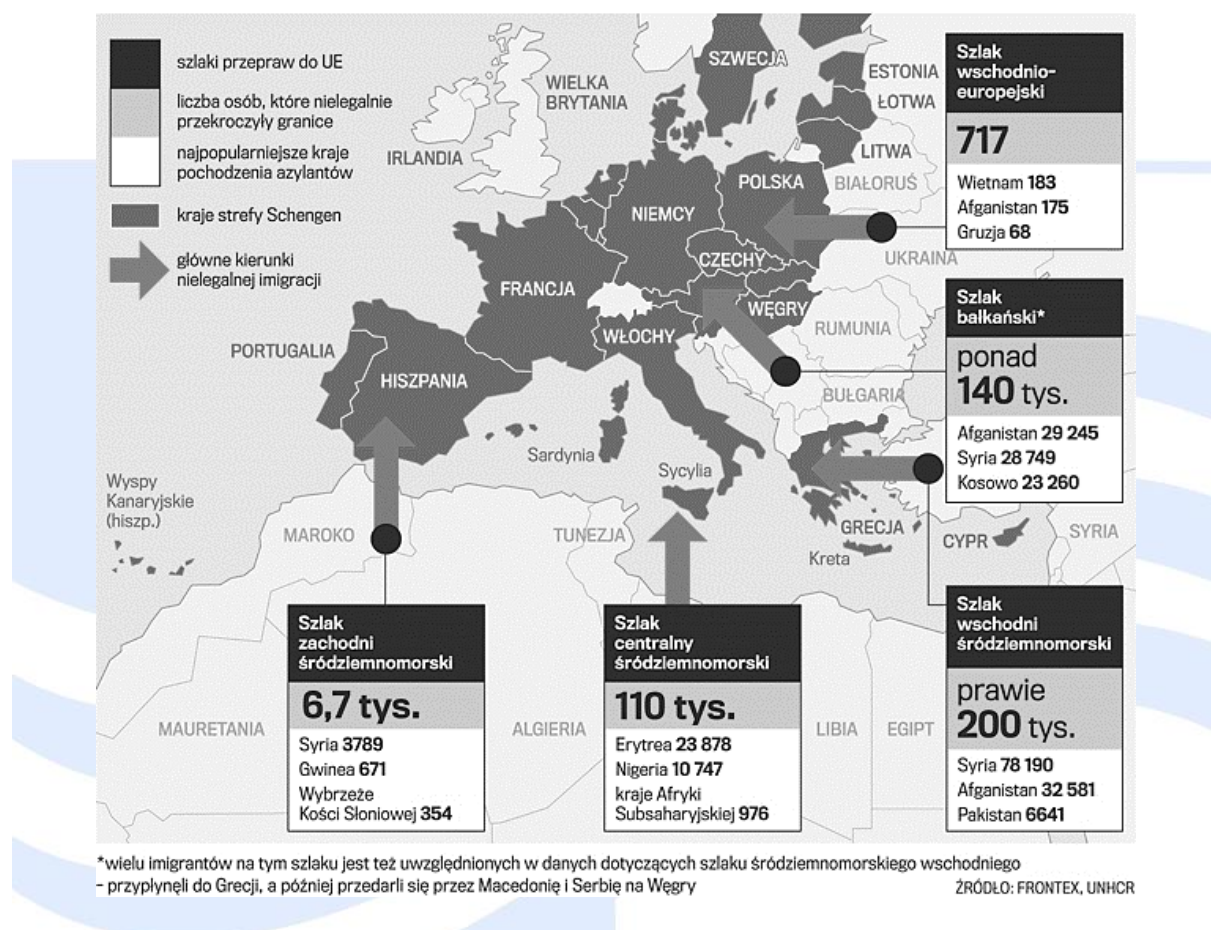
Zaznacz krainę geograficzną, na obszarze, której trzęsienia ziemi nie są wywołane przyczynami naturalnymi.

- A. Wyżyna Śląska
- B. Podhale.
- C. Sudety.
- D. Pojezierze Mazurskie.

Zadanie 18. (0-2 pkt.)

Temat uchodźców jest jedną z ważniejszych informacji w mediach. Korzystając z mapy i własnej wiedzy wykonaj zadania.

LICZBA OSÓB, KTÓRE NIELEGALNIE PRZEKROCZYŁY GRANICE UE OD POCZĄTKU ROKU



A. Zapisz nazwy trzech państw, z których najwięcej osób nielegalnie przekroczyło granice Unii Europejskiej.

1.
2.
3.

B. Zapisz dwie przyczyny, które powodują, że ludność z tych państw ucieka do krajów Unii Europejskiej.

1.
2.

Zadanie 19. (0-1 pkt)

Najwyższym szczytem kontynentu jest Kibo (5895 m n.p.m.), zaś najniższy punkt stanowi depresja jeziora Assal (153 m p.p.m.). Znajduje się on w obrębie trzech stref klimatycznych: równikowej, zwrotnikowej i podzwrotnikowej. Do najważniejszych surowców mineralnych należą diamenty, fosforyty, miedź, uran i złoto. Kontynent jest jednym z głównych producentów kakao, manioku, bananów, kawy i herbaty.

Źródło: Surowiec M., [w:] *Czy (...) jest krajem?*, Fundacja „AP”, Warszawa 2011

Powyższy opis dotyczy:

- A. Ameryki Południowej.
- B. Azji.
- C. Ameryki Północnej.
- D. Afryki.

Zadanie 20. (0-2 pkt.)

Zdjęcie przedstawia święte miasto jednej z dużych religii.



Foto: Thinkstock

Podaj nazwę miasta przedstawionego na fotografii

Podaj nazwę religii, której wyznawcy są przedstawieni na fotografii

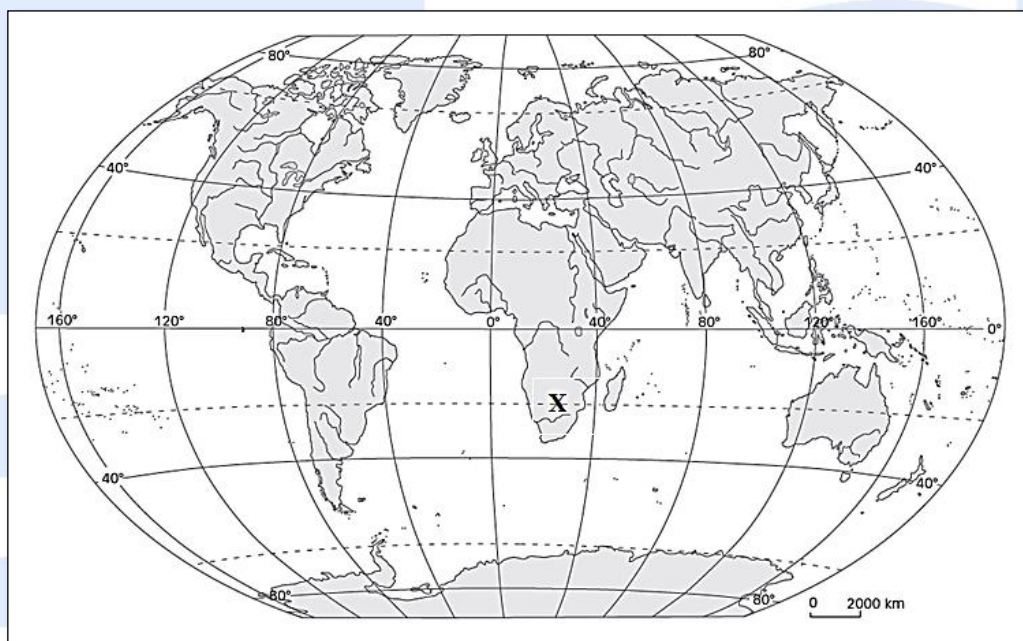
Zadanie 21. (0-2 pkt.)

Rozpoznaj azjatyckie jeziora na podstawie opisu i wpisz jego nazwę:

- A. Wielkie jezioro zwane też morzem na granicy Europy i Azji.
- B. Niegdyś wielkie słone jezioro położone w suchym klimacie, obecnie w zaniku, efekt niewłaściwej gospodarki człowieka.
- C. Najgłębsze jezioro świata

Zadanie 22. (0-2 pkt.)

Uzasadnij podając dwa argumenty, że obszar zaznaczony na mapie symbolem **X** ma niekorzystne warunki dla rozwoju rolnictwa.



- 1.
- 2.

Zadanie 23. (0-1 pkt)

Potomek osób należących do odmiany czarnej i białej to:

- A. Arab.
- B. Metys.
- C. Mulat.
- D. Zambos.



Zadanie 24. (0-1 pkt.)

Wskaż element, który nie spełnia kryterium przyporządkowania.

- A. Tsunami.
- B. Pasat.
- C. Bryza.
- D. Monsun

Zadanie 25. (0-1 pkt.)

Poniżej wymieniono cechy państwa określające poziom rozwoju gospodarczego. Wskaż cechę, która odnosi się do krajów wysoko rozwiniętych gospodarczo.

- A. Wysoki poziom urbanizacji.
- B. Wysoki współczynnik dzietności kobiet.
- C. Wysoki poziom analfabetyzmu.
- D. Wysokie zatrudnienie w rolnictwie.

B R U D N O P I S